

# 一位数乘三位数

## 第 1 课时 一位数乘三位数(一)

### 每课一练

#### 基础训练

1. 直接写得数。

$3 \times 100 =$

$5 \times 200 =$

$300 \times 8 =$

$6 \times 500 =$

$4 \times 700 =$

$300 \times 7 =$

$200 \times 2 =$

$300 \times 6 =$

$900 \times 3 =$

$500 \times 9 =$

$100 \times 2 =$

$300 \times 4 =$

2. 估算。

$358 \times 7$

$924 \times 6$

$689 \times 9$

$893 \times 2 =$

3. 一个工厂每天节约 305 度电,一个星期大约可以节约多少度电?

4. 光明幼儿园有 198 个小朋友,每个小朋友分 3 个桔子,需要买来多少个桔子?

5. 一个食堂每天需要一袋面粉,一个星期,需要多少千克的面粉?



100 千克

6. 学校要为表演舞蹈的 8 名同学买连衣裙,需要多少钱?



售价 200 元

### 拓展提高

7. 后勤王教师带 1 000 元钱买电风扇,他需要买 5 台,他带的钱够吗?



售价  
195 元

8. 妈妈买了 3 件连衣裙和一件长袖衣服,妈妈买衣服一共花了多少钱?



售价 300 元



售价 300 元

### 发散思维

9. 小明有一本连环画 723 页,他每天大约能看 95 页,想一星期看完,他能看完吗?

## 第 2 课时 一位数乘三位数(二)

### 每课一练

#### 基础训练

1. 列竖式计算。

$47 \times 2 =$

$125 \times 4 =$

$57 \times 6 =$

$137 \times 5 =$

$89 \times 5 =$

$365 \times 4 =$

$35 \times 9 =$

$246 \times 4 =$

$313 \times 6 =$

$83 \times 9 =$

$264 \times 7 =$

$64 \times 8 =$

$594 \times 2 =$

$387 \times 3 =$

$254 \times 4 =$

2. 判断对错。

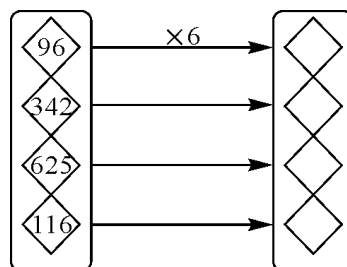
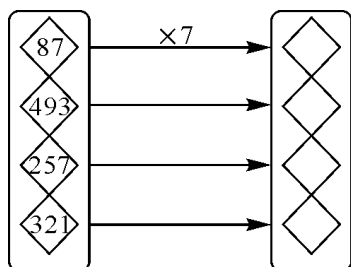
(1) 一位数乘三位数, 积只能是三位数。 ( )

(2) 一个因数是 48, 另一个因数是 6, 积是 248。 ( )

(3) 5 个 241 相加可以写成  $241 \times 5$ 。 ( )

(4)  $316 \times 6$  的积比  $217 \times 7$  的积小。 ( )


3. 填一填。



4. 填一填。

因数	30	600	21	152	363
因数	9	4	8	5	6
积					

5. 这本故事书有多少页？



6. 列式计算。

(1) 8 的 333 倍是多少？

(2) 一个因数是 6, 另一个因数是 225, 积是多少？

### 拓展提高

7. 我国发射的第一颗人造地球卫星绕地球 1 周需要 114 分, 绕地球 8 周需要多少分钟？

8. 小明爸爸月收入 2 665 元, 家里每月需要支出 2 000 元。



3 500 元/台



爸爸半年攒的钱够买到这台计算机吗？

## 发散思维

9. 想一想, 填一填。

$$\begin{array}{r}
 \text{☺} \text{☀} \quad 4 \\
 \times \quad \quad 3 \\
 \hline
 2 \quad 1 \quad \text{☺} \text{☀}
 \end{array}$$

☺ = (      )

☀ = (      )

## 第 3 课时 一位数乘三位数(三)



### 每课一练

#### 基础训练

1. 直接写得数。

$23 \times 3 =$

$11 \times 4 =$

$400 \times 2 =$

$230 \times 3 =$

$102 \times 4 =$

$130 \times 2 =$

$0 \times 285 =$

$130 \times 0 =$

2. 用竖式计算。

$260 \times 3$

$240 \times 5$

$130 \times 7$

$8 \times 105$

$4 \times 308$

$405 \times 7$

3. 列式计算。

(1) 150 的 8 倍是多少?

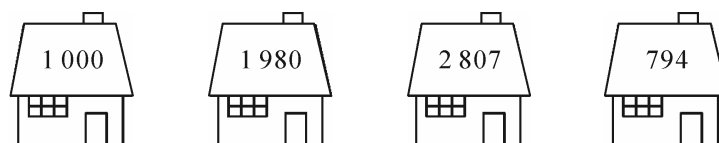
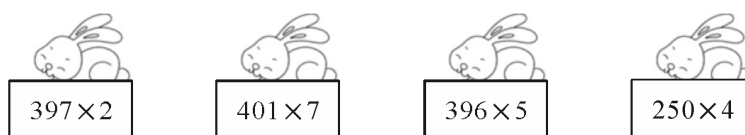
(2) 4 个 660 相加是多少?

## 拓展提高

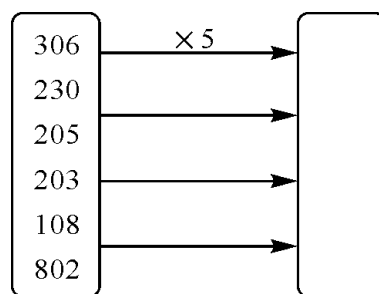
4. 填空。

家用电器名	电熨斗	DVD	电风扇	电饭锅
单价	180	650	205	180
数量	2	3	4	5
总价				

5. 小兔子回家。



6.



7. 改错。

$$\begin{array}{r} 237 \\ \times \quad 5 \\ \hline 1155 \end{array}$$

$$\begin{array}{r} 147 \\ \times \quad 8 \\ \hline 1076 \end{array}$$

8. 小明看一本故事书,每天看 105 页,一个星期正好看完,这本故事书有多少页?

### 发散思维

9. 小明家的鸡每天需要吃饲料 150 千克,他家剩 800 千克的饲料,够 5 天吃的吗?

10. 在  $\square$  里填上合适的数。

$$\begin{array}{r} \square 0 0 \square \\ \times \quad \quad 8 \\ \hline 8 \square 6 \square \end{array}$$